


さんすうもんだい④のこたえ

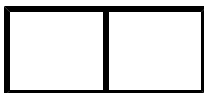
②下の形の中にしかく（四角形）は何こありますか？



おおきなしかくが1こ




が9こ




が12こ



が6こ



が4こ



が4こ

全部で36こです